


Wärmepumpe D (230 V, 50/60 Hz) 1000820

Wärmepumpe D (115 V, 50/60 Hz) 1000819

Bedienungsanleitung

06/15 JS/ALF

1. Sicherheitshinweise



- I Kompressor
- II Verflüssiger
- III Entspannungsventil
- IV Verdampfer

Die Wärmepumpe D entspricht den Sicherheitsbestimmungen für elektrische Mess-, Steuer-, Regel- und Laborgeräte nach DIN EN 61010 Teil 1 und ist nach Schutzklasse I aufgebaut. Sie ist für den Betrieb in trockenen Räumen vorgesehen, die für elektrische Betriebsmittel geeignet sind.

Bei bestimmungsgemäßem Gebrauch ist der sichere Betrieb des Gerätes gewährleistet. Die Sicherheit ist jedoch nicht garantiert, wenn das Gerät unsachgemäß bedient oder unachtsam behandelt wird.

Wenn anzunehmen ist, dass ein gefahrloser Betrieb nicht mehr möglich ist (z.B. bei sichtbaren Schäden), ist das Gerät unverzüglich außer Betrieb zu setzen.

In Schulen und Ausbildungseinrichtungen ist der Betrieb des Gerätes durch geschultes Personal verantwortlich zu überwachen.

- Vor Erstinbetriebnahme überprüfen, ob der aufgedruckte Wert für die Netzanschlussspannung den örtlichen Anforderungen entspricht.

- Vor Inbetriebnahme das Gerät und die Netzleitung auf Beschädigungen untersuchen und bei sichtbaren Schäden das Gerät außer Betrieb setzen und gegen unbeabsichtigten Betrieb sichern.

- Gerät nur an Steckdosen mit geerdetem Schutzleiter anschließen.

Überhitzungsgefahr: Der Kompressor der Wärmepumpe wird im Betrieb sehr heiß.

- Freie Luftzirkulation um den Kompressor nicht behindern.
- Kompressor nicht thermisch isolieren.
- Einen Reset des Überdruckschalters frühestens 10 min nach dessen Ansprechen durchführen.

Das Arbeitsmittel in der Wärmepumpe steht auch bei ausgeschaltetem Kompressor unter Überdruck.

- Gerät nur an den Tragegriffen transportieren.
- Kupferleitungen auf keinen Fall verbiegen und beschädigen.

Das Arbeitsmittel darf nicht in flüssiger Phase in den Kompressor gelangen, da dieser überlastet würde. Das Schmiermittel aus dem Kompressor darf nicht in den Kühlkreislauf gelangen.

- Gerät immer senkrecht aufbewahren, transportieren und betreiben.
- Gerät vor Inbetriebnahme mindestens 7 h senkrecht stehen lassen, falls es gekippt wurde.

2. Komponenten




Fig. 1 Komponenten der Wärmepumpe

- | | |
|----------------------------------|------------------------------------|
| 1 Kompressor | 11 Manometer für Niederdruckseite |
| 2 Schalter für Kompressor | 12 Energiemonitor |
| 3 Wasserbehälter um Verflüssiger | 13 Entspannungsventil |
| 4 Verflüssigerwendel | 14 Rührer, verdampferseitig |
| 5 Rührer, verflüssigerseitig | 15 Verdampferwendel |
| 6 Schauglas, verflüssigerseitig | 16 Wasserbehälter um Verdampfer |
| 7 Überdruck-Schutzschalter | 17 Schauglas, verdampferseitig |
| 8 Reset für Schutzschalter | Netzanschlusskabel (auf Rückseite) |
| 9 Tragegriffe | Thermometer |
| 10 Manometer für Hochdruckseite | Halter für Thermometer |

3. Beschreibung

Die Wärmepumpe D dient zur anschaulichen Darstellung der Funktionsweise eines Kältschranks bzw. einer elektrischen Kompressionswärmepumpe. Sie besteht aus einem Kompressor (Verdichter) mit Antriebsmotor, einem Verflüssiger, einem Entspannungsventil und einem Verdampfer und ist als Luft-Wasser- oder Wasser-Wasser-Wärmepumpe einsetzbar.

Ihre Komponenten sind durch Kupferrohre zu einem geschlossenen System verbunden auf einem Grundbrett aufgebaut und können dank der übersichtlichen Anordnung unmittelbar mit der Abfolge der Zustandsänderungen im Kreisprozess der Wärmepumpe in Verbindung gebracht werden. Verdampfer und Verflüssiger sind als Kupferrohrwendeln ausgebildet und tauchen in je einen Wasserbehälter ein, der als Reservoir zur Bestimmung der aufgenommenen bzw. abgegebenen Wärme dient. Zwei mitgelieferte Analogthermometer ermöglichen die hierzu notwendige Temperaturmessung in den beiden Wasserbehältern.

Um den Aggregatzustand des Arbeitsmittels beobachten zu können, ist die Wärmepumpe hinter dem Verdampfer und hinter dem Verflüssiger mit einem Schauglas ausgestattet. Zwei große Manometer zeigen den Druck jeweils vor und hinter dem Entspannungsventil an. In den Netzspannungsanschluss integriert ist ein digitaler Energiemesser zur Bestimmung der Betriebsdauer, der Netzspannung, der aktuellen Leistungsaufnahme und der elektrischen Arbeit. Ein Überdruck-Schutzschalter trennt die Wärmepumpe bei einem Überdruck von 15 bar vom Netz.

Die Wärmepumpe D wird in zwei Ausführungen geliefert. Die Wärmepumpe mit der Artikelnummer 1000820 ist für eine Netzspannung von 230 V ($\pm 10\%$), 50 Hz ausgelegt, die Wärmepumpe mit der Artikelnummer 1000819 für 115 V ($\pm 10\%$), 60 Hz.

4. Zubehör

Zur Temperaturmessung an verschiedenen Stellen der Kupferleitung eignet sich der „Temperatursensor Pt100 mit Messklemme“ (1009922), da er mit gutem Wärmeübergang direkt an die Kupferleitung angeklemt werden kann. Er wird verwendet in Verbindung mit dem Datalogger „3B NETlog“.



Fig. 2 Temperatursensor Pt 100 mit Messklemme

5. Technische Daten

Kompressorleistung:	120 W, abhängig vom Betriebszustand
Arbeitsmittel:	R 134A (Tetrafluorethan $C_2H_2F_4$)
Siedetemperatur:	-26°C bei 1 bar
Wasserbehälter:	je 2000 ml
Manometer:	160 mm \varnothing , bis 9 bar (Niederdruckseite, Saugleitung), bis 24 bar (Hochdruckseite, Druckleitung)
Schutzschalter:	schaltet bei 15 bar ab
Netzanschluss:	115 V, 60 Hz bzw. 230 V, 50 Hz
Abmessungen:	750 x 350 x 540 mm ³
Masse:	ca. 21 kg

6. Bedienung

6.1 Wasserbehälter füllen.

- Wasserbehälter mit Wasser füllen und mit der niedrigen Kante voran unter die Verdampfer- bzw. Verflüssigerwendel schieben.
- Wasserbehälter drehen, so dass die hohe Kante zur Rückwand zeigt.
- Wasserbehälter anheben, zur Rückwand kippen und in das Halteblech einhängen.



Fig. 3 Anbringen des Wasserbehälters an der Wärmepumpe
Links: Wasserbehälter mit niedriger Kante zur Wärmepumpe
Mitte: Wasserbehälter gedreht, mit niedriger Kante nach vorn zeigend
Rechts: Wasserbehälter wird ins Halteblech eingehängt

6.2 Inbetriebnahme

- Wärmepumpe vor Inbetriebnahme mindestens 7 h senkrecht stehen lassen, falls sie gekippt wurde.
- Zur Inbetriebnahme die beiden Wasserbehälter füllen und die Wärmepumpe ans Netz anschließen.
- Kompressor einschalten.

Hinweis: Der Energiemesser arbeitet auch bei ausgeschaltetem Kompressor.

7. Kreisprozess der Wärmepumpe

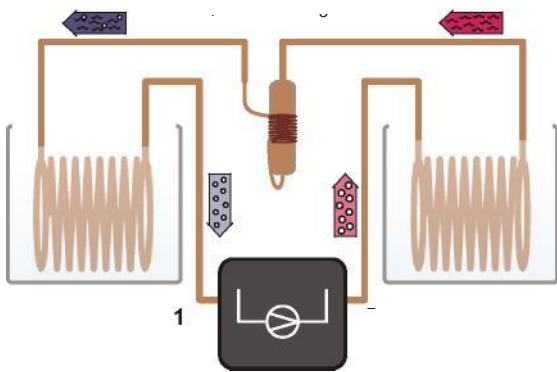


Fig. 4 Schematische Darstellung der Wärmepumpe mit Kompressor (1→2), Verflüssiger (2→3), Entspannungsventil (3→4) und Verdampfer (4→1)

Kompression:

Das gasförmige Arbeitsmittel wird vom Kompressor angesaugt, ohne Entropieänderung ($s_1 = s_2$) von p_1 auf p_2 komprimiert und dabei überhitzt. Die Temperatur steigt von T_1 auf T_2 . Die mechanische Verdichtungsarbeit pro Masseneinheit ist $\Delta w = h_2 - h_1$.

Verflüssigung:

Im Verflüssiger kühlt das Arbeitsmittel stark ab und kondensiert. Die frei werdende Wärme (Überhitzungswärme und Kondensationswärme) erwärmt das umgebende Reservoir auf die Temperatur T_2 . Sie beträgt pro Masseneinheit $\Delta q_2 = h_2 - h_3$.

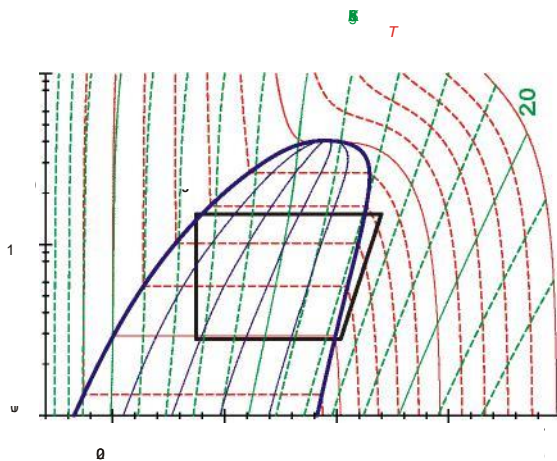


Fig. 5 Darstellung des idealisierten Kreisprozesses der Wärmepumpe im Mollier-Diagramm (siehe Abschnitt 7)

Der Kreisprozess der Wärmepumpe wird idealisiert in vier Schritten unterteilt: Kompression (1→2), Verflüssigung (2→3), Entspannung (3→4) und Verdampfung (4→1).

Gedrosselte Entspannung:

Das kondensierte Arbeitsmittel gelangt zum Entspannungsventil, um dort gedrosselt (d.h. ohne mechanische Arbeit) auf niedrigeren Druck entspannt zu werden. Dabei nimmt auch die Temperatur ab, da Arbeit gegen die molekularen Anziehungskräfte im Arbeitsmittel verrichtet werden muss (Joule-Thomson-Effekt). Die Enthalpie bleibt konstant ($h_4 = h_3$).

Verdampfung:

Im Verdampfer verdampft das Arbeitsmittel unter Aufnahme von Wärme vollständig. Dies führt zur Abkühlung des umgebenden Reservoirs auf die Temperatur T_1 . Die aufgenommene Wärme pro Masseneinheit ist $\Delta q_1 = h_1 - h_4$.

Das verdampfte Arbeitsmittel wird zur erneuten Kompression wieder vom Kompressor angesaugt.

8. Experimentierbeispiele

8.1 Wirkungsgrad des Kompressors

Der Wirkungsgrad η_{∞} des Kompressors ergibt sich aus dem Verhältnis der Wärmemenge ΔQ_2 , die dem Warmwasserreservoir pro Zeiteinheit Δt zugeführt wird, zur Antriebsleistung P des Kompressors. Sie nimmt mit wachsender Tempera-

turdifferenz zwischen Verflüssiger und Verdampfer ab.

c = spezifische Wärmekapazität von Wasser und

m = Masse des Wassers.

Zur Bestimmung des Wirkungsgrades:

- Wärmepumpe ans Netz anschließen.
- Wasserbehälter mit je 2000 ml Wasser befüllen und in das Halteblech einsetzen.
- Kompressor einschalten und ca. 10 min laufen lassen, so dass er seine Betriebstemperatur erreicht.
- Wasser erneuern und die beiden Thermometer in die Halterungen an den Wasserbehältern einsetzen.
- Während des gesamten Experiments das Wasser in den Behältern immer gut umrühren.
- Anfangstemperaturen in beiden Wasserbehältern messen und notieren.
- Zur Zeitmessung RESET-Taste am Energiemessgerät drücken und beim Loslassen den Kompressor einschalten.
- In festen Zeitabständen die Betriebsdauer, die aktuell aufgenommene Leistung und die Temperaturen in den beiden Wasserbehäl-

tern ablesen und notieren.

Hinweis: Nach automatischem Abschalten des Kompressors durch den Überdruck-Schutzschalter die Zeit ablesen und bei erneutem Start, die Zeitmessung fortsetzen.

8.2 Darstellung im Mollier-Diagramm

Der idealisierte Kreisprozess lässt sich im Mollier-Diagramm durch Messung der Drücke $p(3)$ und $p(4)$ vor und hinter dem Entspannungsventil und der Temperatur $T(1)$ vor dem Kompressor bestimmen:

$T(1)$ und $p(4)$ legen Punkt 1 im Mollier-Diagramm fest (siehe Fig. 5). Der Schnittpunkt der zugehörigen Isentropen mit der Horizontalen $p(3) = \text{const.}$ ergibt Punkt 2. Der Schnittpunkt der Horizontalen mit der Siedelinie führt zu Punkt 3 und das Lot auf die Horizontale $p(4) = \text{const.}$ zu Punkt 4.

Die zusätzliche Messung der Temperaturen $T(2)$, $T(3)$, und $T(4)$ gibt einen erweiterten Einblick in die in der Wärmepumpe ablaufenden Prozesse:

So stimmt die extern gemessene Temperatur $T(4)$ innerhalb der Messgenauigkeit mit der Temperatur überein, die der Temperaturskala des zugehörigen Manometers abgelesen wird. Diese Temperaturskala beruht auf der Dampfdruckkurve des Arbeitsmittels. Also zeigt die Messung, dass das Arbeitsmittel hinter dem Entspannungsventil ein Gemisch aus Flüssigkeit und Gas ist.

Die extern gemessene Temperatur $T(3)$ weicht dagegen von der auf dem Manometer der Hochdruckseite abgelesenen Temperatur ab. Das Arbeitsmittel enthält hier keine Gasanteile sondern ist vollständig flüssig.

Zur externen Temperaturmessung zu empfehlen ist (siehe 4. Zubehör):

Temperatursensor Pt100
mit Messklemme 1009922

3B NET/log (230 V, 50/60 Hz) 1000540 bzw.

3B NET/log (115 V, 50/60 Hz) 1000539

□

==A q 2==

h

2 1

h

s

8.3 Theoretische Leistungszahl

Die theoretische Leistungszahl des idealisierten Kreisprozesses lässt sich aus den im Mollier-Diagramm abgelesenen spezifischen Enthalpien h_1 , h_2 und h_3 berechnen:

8.4 Massestrom des Arbeitsmittels

Sind die Enthalpien h_2 und h_3 des idealisierten Kreisprozesses sowie die dem Warmwasserre-

servoir pro Zeitintervall Δt zugeführte Wärmemenge ΔQ_2 bestimmt, so lässt sich der Massstrom des Arbeitsmittels abschätzen.

9. Energiemesser



Taste	Funktion
Rückstelltaste RESET	Mit spitzem Gegenstand zur Löschung aller Daten im Speicher drücken, einschließlich Uhrzeit und Programmierungen
Aufwärtstaste UP	Uhrzeit, Preis und Preisprogramme zusammen mit Einstelltaste SET einstellen
Einstelltaste SET	Uhrzeit, Preis und Preisprogramme zusammen mit Aufwärtstaste UP einstellen
Funktionstaste FUNC	Anzeigemodus umschalten

Einstellung der Uhrzeit:

- Taste FUNC drücken bis CLOCK unten rechts im Display angezeigt wird.

- Taste SET solange drücken bis die Stunden blinken. Stunden mit der Taste UP einstellen und mit SET bestätigen. Dann im gleichen Verfahren die Minuten einstellen.

Messfunktionen anzeigen:

- Taste FUNC jeweils kurz drücken um folgende Informationen anzeigen zu lassen: Stromaufnahme, Wattzahl, Verbrauch.

10. Mollier-Diagramm

Zur Darstellung des Kreisprozesses einer Kompressions-Wärmepumpe verwendet man häufig das Mollier-Diagramm des Arbeitsmittels. Darin ist der Druck p gegen die spezifische Enthalpie h des Arbeitsmittels aufgetragen (die Enthalpie ist ein Maß für den Wärmehalt des Arbeitsmittels, sie wird im Allgemeinen mit wachsendem Druck und mit zunehmendem Gasanteil größer).

Außerdem werden die Isothermen ($T = \text{const.}$) und Isentropen ($S = \text{const.}$) sowie der relative Masseanteil der flüssigen Phase des Arbeitsmittels angegeben. Links von der sogenannten Siedelinie ist das Arbeitsmittel vollständig kondensiert. Rechts von der sogenannten Taulinie liegt das Arbeitsmittel als überhitzter Dampf und innerhalb beider Linien als Flüssigkeits-Gas-Gemisch vor. Die beiden Linien berühren sich im kritischen Punkt.

Siehe Fig.6 auf Seite 7.

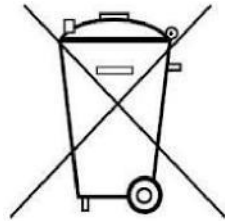
11. Pflege und Wartung

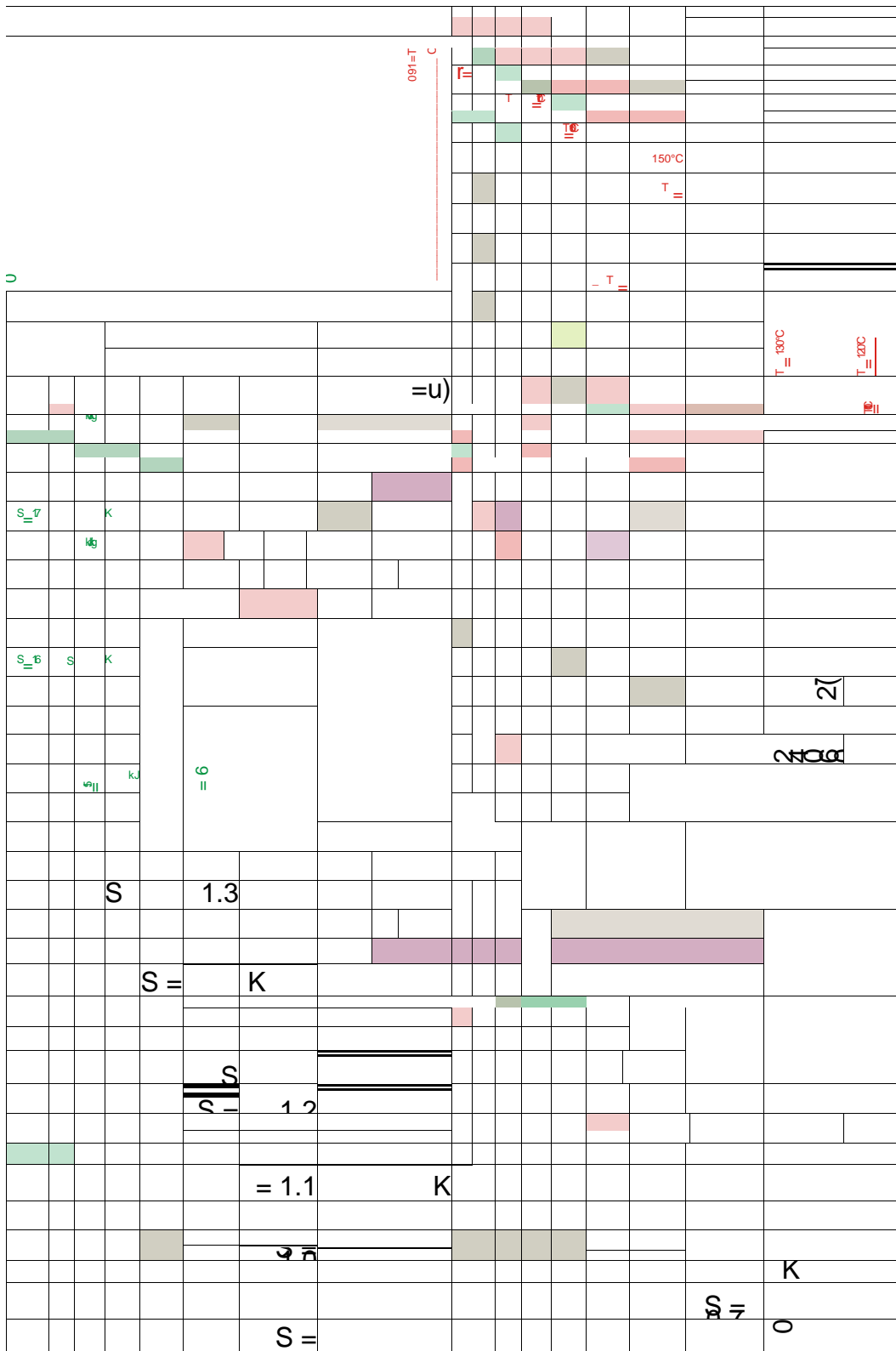
Die Wärmepumpe ist wartungsfrei.

- Vor der Reinigung Gerät von der Stromversorgung trennen.
- Zum Reinigen ein weiches, feuchtes Tuch benutzen.

12. Entsorgung

- Die Verpackung ist bei den örtlichen Recyclingstellen zu entsorgen.
- Sofern das Gerät selbst verschrottet werden soll, so gehört dieses nicht in den normalen Hausmüll. Es sind die lokalen Vorschriften zur Entsorgung von Elektroschrott einzuhalten.





K
kJ/kg K

S = 0.8 kJ/kg
K

